

Língua Portuguesa

TEXTO I

TEXTO – 1964, PASSADO E PRESENTE

O golpe de 1964, que completou meio século, é passado e presente simultaneamente.

Passado: o golpe se inscreve na geopolítica da Guerra Fria. Não é possível entender a tomada do poder pelos militares fora do contexto internacional aberto pela Revolução Cubana.

Depois do triunfo de Fidel Castro e Che Guevara, os Estados Unidos estimularam a implantação de “ditaduras de segurança nacional” na América Latina. O regime militar brasileiro faz parte desse ciclo.

Presente: a ditadura terminou há mais de um quarto de século, mas algumas de suas obras políticas ainda permanecem entre nós. São leis e instituições que, conservadas numa democracia imperfeita, contaminam até hoje a vida pública brasileira.

Questão 01 - Na frase inicial do texto, a palavra “golpe” tem conotação fortemente negativa; a palavra negritada abaixo que também apresenta esse mesmo valor negativo é:

- (a) “Passado: o golpe se inscreve na geopolítica da Guerra Fria.”
- (b) “Presente: a ditadura terminou há mais de um quarto de século,...”.
- (c) “Não é possível entender a tomada do poder pelos militares fora do contexto internacional aberto pela Revolução Cubana”.
- (d) “São leis e instituições que, conservadas numa democracia imperfeita, contaminam até hoje a vida pública brasileira”.

Questão 02 - Dois exemplos de termos em que a razão de emprego de maiúsculas iniciais é rigorosamente a mesma é:

- (a) Guerra Fria / Revolução Cubana.
- (b) Revolução Cubana /Fidel Castro.
- (c) Fidel Castro / América Latina.
- (d) Guerra Fria / Estados Unidos.

Questão 03 - (UFMG) As expressões sublinhadas correspondem a um adjetivo, exceto em:

- (a) João Fanhoso anda amanhecendo sem entusiasmo.
- (b) Demorava-se de propósito naquele complicado banho.
- (c) Os bichos da terra fugiam em desabalada carreira.

(d) Noite fechada sobre aqueles ermos perdidos da caatinga sem fim

Questão 04 - A oração “que completou meio século”, no primeiro parágrafo do texto, tem a função de:

- (a) corrigir um dado fornecido.
- (b) explicar um termo anterior.
- (c) acrescentar uma informação.
- (d) restringir o significado de “golpe”.

Questão 05 - O termo “regime militar brasileiro” repete a mesma estrutura de classes de palavras no seguinte segmento do texto:

- (a) “ditaduras de segurança nacional”.
- (b) “fora do contexto internacional”.
- (c) “geopolítica da Guerra Fria”.
- (d) “vida pública brasileira

Questão 06 - O vocábulo abaixo cuja justificativa de acentuação gráfica está corretamente indicada é:

- (a) até: monossílabo tônico terminado em E.
- (b) há: vocábulo oxítono terminado em A.
- (c) possível: vogal I de um hiato.
- (d) século: proparoxítono.

Questão 07 - “Dos cerca de dez milhões de atendimentos ambulatoriais de atenção básica realizados na rede municipal de janeiro a julho, somente 12% dos pacientes eram do sexo masculino (na faixa de 20 a 59 anos). Quando incluídos os mais idosos, o índice de homens que procuram os serviços de saúde de forma preventiva não ultrapassa os 25%. Mas, quando considerada a atenção secundária (policlínicas e locais de exames), os homens de 20 a 59 anos representam 30% o que confirma que só procuram serviços de saúde quando já estão doentes”. O crescimento estatístico de atendimento citado nesse fragmento do texto está diretamente relacionado à:

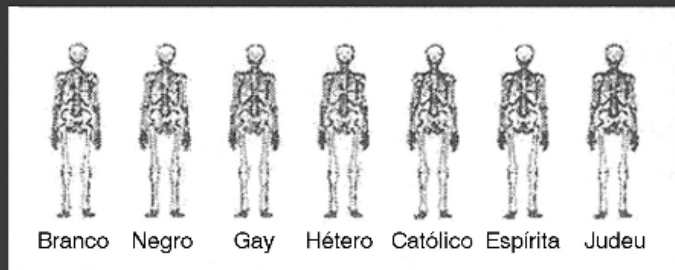
- (a) idade dos pacientes e à gravidade da doença.
- (b) gravidade da doença e à disponibilidade de horário.
- (c) proximidade do atendimento e à idade dos pacientes.
- (d) disponibilidade de horário e à qualidade dos serviços.

Questão 08 - A alternativa em que a substituição da locução por um vocábulo está correta é:

- (a) exames de rotina = exames rotineiros
- (b) causas de mortes = causas mortíferas
- (c) serviço de saúde = serviços saudáveis
- (d) horário de atendimentos = horário atento

TEXTO II

ENTENDEU A DIFERENÇA?



Questão 09 - O texto V problematiza atitudes preconceituosas que persistem na sociedade brasileira. A proposta sugerida é a de que:

- (a) A sociedade brasileira não é preconceituosa.
- (b) Todas as raças praticam uma ou mais religiões.
- (c) semelhança é mais significativa do que as diferenças entre os seres humanos.
- (d) Existe um vínculo entre raça e religião

TEXTO III

COMO AS GRANDES CIDADES AFETAM A QUALIDADE DE VIDA

Uma pesquisa do Instituto de Psiquiatria do Hospital das Clínicas da Faculdade de Medicina da Universidade de São Paulo (USP) foi a fundo para saber que tipo de pane as grandes cidades provocam no cérebro de quem habita esse cenário. Batizado de São 'Paulo Megacity o estudo foi feito com mais de 5 mil moradores da região metropolitana da capital paulista. Os resultados revelam: quase 30% dos participantes apresentam transtornos psicológicos.

O trabalho, vencedor do Prêmio SAÚDE 2012 na categoria Saúde Mental e Emocional, é parte de um grande levantamento feito em 24 países. E, na opinião da psiquiatra Laura Helena Silveira Guerra de Andrade, responsável pelo projeto por aqui, ele serve de modelo – e de alerta – para outros aglomerados com mais de 10 milhões de habitantes, incluindo cidades brasileiras que se aproximam dessa dimensão. “Constatamos que, nelas, as mulheres têm mais distúrbios de ansiedade e humor, enquanto homens ficam propensos a problemas de

controle de impulso e abuso de drogas”, resume a médica. A vulnerabilidade feminina tem explicação sobretudo em dois fatores.

Um deles, aponta Wang Yuan Pang, psiquiatra integrante do SP Megacity, está na oscilação hormonal. O outro, no excesso de responsabilidade.

O perrengue com as contas no fim do mês engrossa a lista de responsáveis pela fragilidade mental. “Quando o desemprego é alto, sem renda para o sustento familiar, o risco de compensar a angústia no álcool e nas substâncias ilícitas se amplia”, explica Pang. “Além disso, muita gente vive em áreas de privação, com infraestrutura precária e graves problemas de marginalização, o que também contribui para esse quadro”, acrescenta.

Acesso em 25/09/2014

Questão 10 - Assinale a alternativa correta quanto às ideias contidas no texto.

- (a) O estudo da USP foi batizado de “São Paulo Megacity” porque foi o primeiro no mundo a fazer uma pesquisa sobre transtornos psicológicos.
- (b) O resultado da pesquisa com moradores de São Paulo pode servir de alerta para moradores de outras cidades também grandes.
- (c) Os problemas financeiros que dificultam o pagamento das contas no fim do mês são fatores determinantes para a vulnerabilidade feminina.
- (d) Segundo a pesquisa, os problemas que mais atinge em os homens são ansiedade e problemas de controle de impulso além do abuso de drogas.

Questão 11 - Releia o seguinte trecho do texto: “(...) provocam no cérebro de quem habita esse cenário.”

O pronome demonstrativo sublinhado é usado para recuperar o seguinte termo

- (a) “tipo de pane.”
- (b) “no cérebro.”
- (c) “as grandes cidades.”
- (d) “Uma pesquisa”

Questão 12 - No texto, o substantivo que pode ser considerado sinônimo de “pane” é:

- (a) “transtornos”
- (b) “alerta”
- (c) “abuso”
- (d) “perrengue”

Questão 13 - Releia a seguinte frase do texto: “Os resultados revelam: quase 30% dos participantes apresentam transtornos psicológicos.” Considerando o sentido do texto, a alternativa que apresenta o termo que substitui corretamente os dois-pontos é:

- (a) mas.
- (b) se.
- (c) que.
- (d) porque.

Questão 14 - A alternativa em que todas as palavras obedecem à mesma norma de acentuação gráfica é:

- (a) saúde - solúvel - saída
- (b) café - você - corrói
- (c) pátria - indícios - critério
- (d) pólo - álbum - táxi

Matemática

Questão 15 - Qual é o valor da expressão numérica

$$\frac{1}{5} + \frac{1}{50} + \frac{1}{500} + \frac{1}{5000} ?$$

- (a) 0,2222
- (b) 0,2323
- (c) 0,2332
- (d) 0,3222

Questão 16 - Carol pretende preparar um enorme bolo. Sua receita, entre outros ingredientes, leva 500g de trigo, 300g de chocolate e 150g de açúcar. Sabendo que a Carol usará 2,5Kg de trigo na receita, quando deverá usar de chocolate e açúcar, respectivamente?

- (a) 1kg e 400g
- (b) 1,5kg e 750g
- (c) 1,5kg e 800g
- (d) 1,6kg e 800g

Questão 17 - Sabe-se que um automóvel a 80 km/h percorre certa distância em 2 horas. Para a mesma distância, se aumentarmos sua velocidade para 100 km/h, o tempo do seu percurso ficará:

- (a) Diminuído em 20%
- (b) Diminuído em 25%
- (c) Aumentado em 20%
- (d) Aumentado em 25%

Questão 18 - Há 20 anos, em 1º de julho de 1994, entrava em vigor o real, moeda que pôs fim à hiperinflação que assolava a população brasileira. Nesse novo sistema monetário, cada real valia uma URV (Unidade Real de Valor), que, por sua vez, valia 2750 cruzeiros reais. Dessa forma, 33550 cruzeiros reais valiam:

- (a) 10,50 URV.
- (b) 11,70 URV.
- (c) 12,50 URV.
- (d) 12,20 URV.

Questão 19 - As idades de Felipe e Márcia há 8 anos estavam na razão de 3 para 7. Hoje, estão na razão de 5 para 9. A soma das idades atuais de Felipe e Márcia é:

- (a) 54 anos.
- (b) 56 anos.
- (c) 58 anos.
- (d) 60 anos.

Questão 20 - Uma manifestação foi realizada em uma área de 8700 m². A Polícia Militar estimou o público presente a partir da observação de que, em média, cada 3 m² foi ocupado por 10 pessoas. Isso significa dizer que, em número de pessoas, o público presente a essa manifestação correspondeu a:

- (a) 30000
- (b) 29000
- (c) 28000
- (d) 27000

Questão 21 - Uma garrafa PET (politereftalato de etileno) com sua tampa custa sessenta centavos. Sabendo que a garrafa custa cinquenta centavos a mais que a tampa, quanto custa só a tampa?

- (a) R\$ 0,05
- (b) R\$ 0,15
- (c) R\$ 0,25
- (d) R\$ 0,35

Questão 22 - Considere os seguintes números inteiros:

X = maior número natural formado por 6 algarismos diferentes

Y = menor número natural formado por 6 algarismos diferentes

O algarismo da dezena de milhar da soma (X + Y) corresponde a:

- (a) 5
- (b) 6
- (c) 7
- (d) 8

Pesquisa mostra que a maioria dos pais é negligente. Pesquisa feita pelo núcleo de análise do comportamento de uma Universidade Federal, entrevistando 3000 pais, separou-os em quatro perfis, a partir dos resultados: negligentes (45%); autoritários (10%); permissivos (12%) e participativos (o restante).

O bancário Carlos faz malabarismos para estar mais presente no dia-a-dia dos filhos, mas acha difícil. Diz ele:

—Tenho quatro filhos de quatro mulheres diferentes. Moro com o caçula, com quem tenho contato diário; Pedro vem a minha casa de oito em oito dias; Paulo vem de quinze em quinze dias e Lúcia, a mais velha, vem de vinte em vinte dias. Por sinal, neste domingo, estivemos todos reunidos.

Questão 23 - Considerando que neste domingo Carlos teve todos os seus filhos em casa e mantendo-se essa escala de visitas, após esse domingo, em quanto tempo Carlos terá em sua casa todos os filhos reunidos de novo?

- (a) 60 dias. (b) 90 dias. (c) 120 dias. (d) 150 dias

Questão 24 - Os alunos do curso técnico em Agroecologia do colégio CTUR trabalham na plantação de duas culturas, milho e feijão, utilizando a técnica de rotação. Na colheita, totalizaram 500 quilos de alimentos próprios para o consumo. Se a quantidade de feijão colhida for três vezes maior que a de milho, então a quantidade de milho e feijão, respectivamente, é de:

- (a) 125 e 375 (b) 210 e 290
(c) 200 e 600 (d) 230 e 270


Questão 25 - Em um certo jogo tem-se que:

- uma carta azul vale 5 cartas vermelhas;
- uma carta vermelha vale 5 cartas verdes;
- uma carta verde vale 5 cartas pretas.

Logo, 5 cartas azuis valem a seguinte quantidade de cartas pretas:

- (a) 3^5 (b) 4^5 (c) 10^3 (d) 25^2

Questão 26 - Um segmento de reta foi dividido em 10 partes iguais, conforme mostra a figura abaixo:



O ponto P é a imagem do seguinte número racional:

- (a) 40,1 (b) 39,8 (c) 39,6 (d) 39,2

Questão 27 - Considere os seguintes números inteiros:

X = maior número natural formado por 6 algarismos diferentes

Y = menor número natural formado por 6 algarismos diferentes

O algarismo da dezena de milhar da soma (X + Y) corresponde a:

- (a) 5 (b) 6 (c) 7 (d) 8

Questão 28 - Fazer a barba no passado era um ritual que consumia algo como meia hora no barbeiro, temponecessário para ela ficar de molho em água quente, receber fartas pinceladas de espuma e serretirada com navalhas finíssimas. Hoje,

as pessoas levam cinco minutos para barbear-se em casa.

Resolva a expressão numérica abaixo, cujo valor corresponde ao ano em que surgiu a primeiralâmina de barbear descartável:

$$112 - \sqrt{100} + 54 \times (9:3)0 + (15 - 40:8)3 + 11 \times 15$$

- (a) 1.821 (b) 1.901 (c) 1.705 (d) 1.796

Ciências

Questão 29 - Muitos estudos atuais têm apontado um aumento considerável na concentração de gás carbônico (CO₂) na atmosfera a partir da Revolução Industrial. As principais atividades responsáveis seriam a queima de combustíveis fósseis (largamente utilizados nos transportes e em atividades industriais) e o aumento do desmatamento das áreas florestadas (para a expansão de áreas urbanas e agrícolas).

Fonte: <http://www.clikideia.com.br/site2/blog/29432>

Acredita-se que a alta concentração atmosférica de CO₂ esteja relacionada com o aumento da temperatura da Terra, o que pode provocar mudanças climáticas significativas no planeta.

Abaixo estão alguns mecanismos utilizados para diminuir estes impactos e a respectiva justificativa para seu uso. Aponte a alternativa que apresenta um **ERRO** em sua proposta:

- (a) Investimento em biocombustíveis produzidos a partir de vegetais, pois estes incorporam CO₂ da atmosfera em etapas da sua produção.
- (b) Preservação de áreas de florestas maduras, as quais mantêm grande quantidade de carbono fixado na matéria orgânica.
- (c) Remoção de áreas de floresta madura e substituição por plantações, pois em seus estágios iniciais de crescimento as plantas tendem a absorver mais gás carbônico.
- (d) Fazer o replantio de áreas desmatadas, visto que as plantas irão absorver CO₂ atmosférico durante seu crescimento.

Questão 30 -

“Em 12 de abril de 1961, Gagarin estava a bordo da espaçonave Vostok-1, lançada de uma plataforma em Baikonur, no Cazaquistão, por um foguete Soyuz. Durante o voo, que durou 108 minutos, sendo 90 minutos efetivamente no espaço, completou uma órbita ao redor da Terra, viajando a

uma velocidade aproximada de 27 mil km/h.”

Considerando os valores indicados no texto, a distância percorrida por Gagarin enquanto **efetivamente no espaço** foi de

- (a) 11250 km
- (b) 18000 km
- (c) 40500 km
- (d) 685000 km

Questão 31 -Um ciclista percorre uma pista com velocidade de 36 km/h. A velocidade do ciclista em m/s é:

- (a)36. (b)20. (c)12. (d)10.

Questão 32 - Um ônibus faz o trajeto entre duas cidades. A distância entre as cidades é de 100km o veículo percorre a distância em 120 minutos. A velocidade média do Ônibus durante toda a viagem éde:

- (a)120 km/h(b)64 km/h.
- (c)60 km/h.(d)50 km/h.

Questão 33 - Um carro passa por um ponto da estrada com velocidade de 10m/s. Após 5 segundos qual a distância percorrida pelo carro?

- (a)75m. (b)100m. (c) 120m.(d) 50m.

Questão 34 -Assinale a opçãocorreta:

- (a) Uma pessoa em um trem pode afirmar que as árvores estão sempre emrepouso.
- (b) O cobrador de um ônibus está sempre em movimento em relação aomotorista.
- (c) Um paciente, convalescendo (em estado vegetativo) em um hospital, pode estar emmovimento.
- (d) Pode-se discutir o conceito de repouso e movimento sem escolher um referencial.

Questão 35 - Após chover na cidade de São Paulo, as águas da chuva descerão o rio Tietê até o rio Paraná, percorrendo cerca de 1.000km. Sendo de 4km/h a velocidade média das águas, o percurso mencionado será cumprido pelas águas da chuva em aproximadamente:

- (a) 30 dias
- (b) 10 dias
- (c) 25 dias
- (d) 2 dias

Questão 36 - Qual a velocidade média, em Km/h, de uma pessoa que percorre, a pé, 1200 m em 20 min?

- (a)4,8(b)3,6(c)2,7.(d)2,1.

Questão 37 - Analise os seguintes dados relativos às 3 substância A, B eC:

Considerando o código S= sólido, L= líquido e G= gasoso, assinale a opção do estado físico correto de cada substânciaa 25^o.C (temperatura ambiente), A, B e C, respectivamente:

Propriedades	A	B	C
Ponto de fusão	-10 ^o .C	150 ^o .C	- 50o.C
Ponto de ebulição	50 ^o .C	800 ^o .C	10o. C

- (a) L, G,S
- (b) L S,G
- (c) G, L,S
- (d) G, S,L

Questão 38- Bolinhas de naftalina são utilizadas contra baratas. Ao serem colocadas em armários, com o decorrer do tempo, diminuem de tamanho. O fenômeno que explica corretamente este comportamentoé:

- (a) condensação
- (b) fusão
- (c) liquefação
- (d) sublimação

Questão 39 -

Sãofenômenosqueenvolvemtransformaçõesquímicas,exceto:

- (a) Azedamento doleite
- (b) Cozimento dofeijão
- (c) Digestão doamido
- (d) Congelamento dacarne

Questão 40 - Atualmente adiciona-se à gasolina 23 a 25% de álcool, com o objetivo de diminuir os poluentes emitidos e aumentar o rendimento dos motores. O método usado para avaliar aquantidade de álcool na gasolina , baseia-se na maior afinidade do álcool por uma solução de água e sal de cozinha. A técnica consiste em adicionar água salgada à gasolina. Assim todo o álcool passará para a solução de água e sal, formando uma mistura heterogênea de duas fases. Um processo que permite separar essas fasesé a:

- (a) filtração
- (b) destilação
- (c) liquefação
- (d) decantação

História

Questão 41 - À EXCEÇÃO DE UMA, as alternativas abaixo apresentam de modo correto características do Renascimento. Assinale-a.

- (a) O retorno aos valores do mundo clássico, na literatura, nas artes, nas ciências e na filosofia.
- (b) A valorização da experimentação como um dos caminhos para a investigação dos fenômenos da natureza.
- (c) A possibilidade de uma estreita relação entre os diferentes campos do conhecimento.
- (d) O fato de ter ocorrido com exclusividade nas cidades italianas.

Questão 42 - Movimento ocorrido na Europa entre os séculos XIV e XV, caracterizados, entre outros, na Antiguidade clássica greco-romana, pela centralidade na figura humana e pelo racionalismo. Estamos nos referindo ao:

- (a) Iluminismo
- (b) Renascimento
- (c) Barroco
- (d) Eurocentrismo

Questão 43 - Os movimentos reformistas religiosos que surgiram na Europa moderna, entre os séculos XV e XVI, variaram em seus fundamentos e prática frente aos dogmas religiosos instituídos pela Igreja Católica. Marque a opção que relaciona corretamente um desses movimentos reformistas com seu fundamento doutrinário.

- (a) O humanismo defendeu a extinção do Papado como necessária para o desenvolvimento de uma nova religião baseada na tolerância e no respeito às crenças religiosas individuais.
- (b) O luteranismo condenou a doutrina da predestinação e a livre interpretação das escrituras sagradas.
- (c) O calvinismo, em sua concepção moral, valorizou o trabalho e justificou o lucro, formulando uma doutrina que correspondia às necessidades de uma moral burguesa.
- (d) O anglicanismo instituiu uma doutrina protestante, cuja hierarquia eclesiástica subordinava o poder temporal dos monarcas à autoridade divina dos Papas.

Questão 44 - Foram elementos da Reforma Católica no século XVI:

- (a) A manutenção do latim como língua litúrgica, o estabelecimento do Tribunal do Santo Ofício e a criação da Companhia de Jesus.
- (b) A afirmação da doutrina da predestinação, a condenação das indulgências como instrumento para a salvação e a manutenção do celibato dos clérigos.
- (c) A manutenção do latim como língua litúrgica, a reafirmação do livre-arbítrio e a eliminação do batismo como um dos sacramentos.
- (d) A tradução da Bíblia para as diversas línguas nacionais, a abolição da confissão e a crítica ao culto das imagens.

Questão 45 - "... Diziam os mareantes, que depois desse cabo não há nem gente nem povoado algum; a terra não é menos arenosa que os desertos da Líbia, onde não há água, nem árvores, nem erva verde; e o mar é tão baixo, que a uma légua da terra não há fundo mais que uma braça."

O texto faz referência à época:

- (a) das Grandes Navegações no início da Idade Média;
- (b) da Revolução Industrial na Idade Contemporânea;
- (c) do expansionismo marítimo lusitano;
- (d) das navegações fenícias;

Geografia

Questão 46 - O texto abaixo faz parte de uma notícia do site G1

Mulher morre após casal entrar por engano em comunidade em Niterói

GPS levou Regina Múrmura e o marido para a comunidade do Caramujo. Em agosto, atriz Fabiana Karla também foi alvo em caso semelhante.

O uso de instrumentos de localização e orientação espacial são muito utilizados atualmente e podem garantir, além de conforto, segurança. Entre as alternativas abaixo, entretanto, existe uma afirmação equivocada acerca da orientação geográfica. Identifique-a.

- (a) Se estivermos no Brasil e observarmos as horas dos lugares que estão a Leste deste país, veremos que estão adiantados em relação ao horário brasileiro.
- (b) A latitude de um lugar é medida em relação a sua distância em relação à linha do Equador, principal paralelo terrestre. Quanto mais meridional ou setentrional for uma posição, maior será sua latitude.

(c) O Meridiano de Greenwich e seu meridiano oposto dividem a Terra em dois hemisférios: o Oriental e o Ocidental.

(d) Se virarmos o globo terrestre de cabeça para baixo, o norte vira sul e o sul vira norte.

Questão 47 - Considere dois mapas do Brasil, sendo que o mapa "A" tem escala de 1:10.000.000 e o mapa "B", escala de 1:50.000.000. Assinale a alternativa correta.

(a) Ambos os mapas apresentam a mesma riqueza de detalhes.

(b) O mapa "A" apresenta menor riqueza de detalhes que o mapa "B".

(c) O mapa "A" apresenta maior riqueza de detalhes que o mapa "B".

(d) O mapa "B" é proporcionalmente cinco vezes maior que o mapa "A".

Questão 48 - O sistema de fusos horários foi estabelecido no Brasil pelo Decreto nº 2784, de 18 de junho de 1913. Já a hora local depende da hora referida do meridiano local comparada com a hora do:

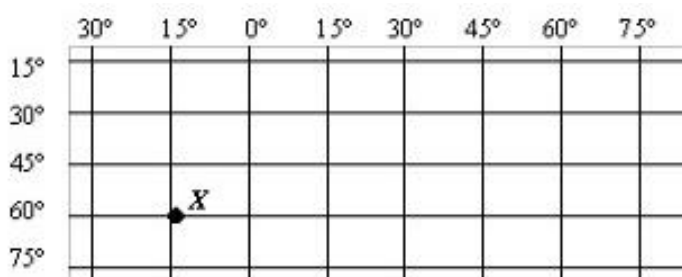
(a) O meridiano ao lado.

(b) O fuso de referência escolhido pelo governo.

(c) meridiano de Greenwich.

(d) Equador e sua latitude.

Questão 49 - Analise a figura abaixo e assinale a opção que corresponde às coordenadas geográficas do ponto X



(a) 60° de Latitude Sul / 15° de Longitude Oeste

(b) 15° de Latitude Norte / 60° de Longitude Leste

(c) 60° de Latitude Norte / 15° de Longitude Leste

(d) 15° de Latitude Sul / 60° de Longitude Oeste

Questão 50 - "Nos Alpes europeus, os centros de esqui funcionam no inverno, enquanto o verão é a estação do alpinismo. Nas zonas temperadas, o turismo de praia se restringe aos meses de verão".

MAGNOLI, D. Geografia para o Ensino Médio. São Paulo: Atual, 2008.p.49.

As transformações nos hábitos e práticas humanas, em parte, devem-se ao clima, que é condicionado a partir de inúmeros fatores. Assinale a alternativa que indica o fator responsável pelas transformações climáticas indicadas no trecho acima:

(a) as zonas térmicas da Terra.

(b) o movimento de translação terrestre.

(c) a altitude e as conseqüentes diferenças de pressão atmosférica.

(d) as diferenças de latitude.

Proposta de Redação

TEXTO I

A influência da mídia na formação do caráter ou vida do indivíduo

A mídia obtém grande influência sobre a sociedade, ela tem um papel fundamental na disseminação de pensamentos, na construção de opinião pública, caráter e educação. Mas às vezes essas informações são utilizadas com fins de manipular a população. A TV é a maior influência para as crianças, para elas, o que é passado neste meio é o modelo certo a seguir de família, forma física, escolhas, gostos, resumindo, modelo certo de viver.

Essa influência tem seus pontos positivos e negativos. Como ponto positivo é a interatividade que é usada para abordar certos temas polêmicos, mas que é preciso ser abordado para o maior entendimento da população, e o seu lado negativo se tem quando é usado esse meio de comunicação para mostrar apenas o que é interessante para a mídia e para os políticos, fazendo assim a população, principalmente os leigos acreditarem apenas no que estão vendo nela, e não procurarem outra fonte de conhecimento para ter a sua opinião.

A humanidade está com um grande problema: menos de 3% da população leem livros, menos de 15% da população leem jornais. A única verdade que a maioria da população conhece é aquela que vem da televisão. Agora existe uma geração inteira que nunca soube de nada que não saiu da televisão, sendo assim, a esta possui a verdade absoluta. E assim começam a acreditar que o que ela fala é a realidade e que as suas próprias vidas não são reais. Fazemos qualquer coisa que ela nos mande fazer: Nós nos vestimos como na tv, comemos como na tv, as mães educam os seus filhos como veem na tv e até tentam pensar como as pessoas na TV.

A mídia é uma excelente ferramenta de comunicação. Estes meios de comunicação social se tornaram um vício que nos domina de forma exacerbada, influenciando-nos em vários aspectos tais como: comportamental, profissional, comercial e pessoal. A mídia somada a um determinado senso crítico da população resulta na cidadania. Desde o nascimento de um ser, sempre existe o papel da mídia influenciando como devemos comer, como devemos andar, como devemos estudar enfim, em todo tempo somos vigiados pela sociedade que muitas vezes nos fazem sentir pressionados para se adequar aos padrões estipulados pela mídia. Para as mulheres, padrões de beleza como o de ser magra, significa dizer que se está com um corpo perfeito ou um rapaz dotado de músculos proeminentes significa que está sarado, ambos são sinônimos de saúde. Os padrões de beleza influenciam significativamente na vida de uma pessoa de modo que esta chega a sacrificar a sua própria saúde em prol de um corpo perfeito ditado pela mídia. A moda é ditada por quem está na TV, pelo que usam, jeito de se vestir, cor da moda, tudo isso cria em quem está vendo a vontade de ter também, aumenta o desejo de consumo. Pode-se observar também que o estereótipo do que se diz beleza, é baseado como as pessoas aparecem na mídia, causando assim por muitas vezes a inquietação no espectador de querer ser igual.

Não podemos negar que a mídia exerce um papel fundamental para a formação de um cidadão, porém é preciso ter cuidado e não aceitar somente no que a mídia nos mostra, utilizar ela apenas como uma ferramenta de conhecimento, e saber que além desta também existem varias outras para serem analisadas. Somos obrigados a aceitar e seguir uma série de modismos se quisermos fazer parte da sociedade. O poder midiático faz com que nos tornemos alienados e bitolados pelo que é passado. Porém vale salientar que a última coisa que os geradores da mídia querem é um público bem informado, capaz de pensar por si próprio e fazer pensamento crítico.

<http://gestaoempresarial20141.blogspot.com.br/2014/05/a-influencia-da-midia-naformacao-do.html>

TEXTO II



<http://www.efdeportes.com/efd195/influencia-da-midia-na-construcao-da-imagem-corporal.htm>

Refleta sobre o assunto e produza um texto dissertativo no qual você se posicione sobre a seguinte questão:

A INFLUÊNCIA DA MÍDIA NA FORMAÇÃO SOCIAL DO INDÍVIDUO

1. A prova de redação deverá ser feita no **CADERNO DE REDAÇÃO**.
2. O texto dissertativo é aquele em que você expõe o seu ponto de vista.
3. O seu texto não deve ser escrito em forma de poema (versos) ou narrativa.
4. Procure redigir em torno de 25 linhas.
5. É recomendável que você faça um rascunho para sua redação.
6. Não se esqueça de dividir o seu texto em parágrafos e de dar-lhe um título.
7. Atenção à ortografia, à acentuação gráfica e à pontuação.
8. O seu texto deve estar de acordo com a norma culta da língua.

GABARITO

1	D	26	D
2	A	27	ANULADA
3	B	28	B
4	C	29	C
5	D	30	C
6	D	31	D
7	A	32	D
8	A	33	D
9	C	34	C
10	B	35	B
11	A	36	B
12	D	37	B
13	C	38	D
14	A	39	D
15	A	40	D
16	B	41	D
17	B	42	B
18	D	43	C
19	B	44	D
20	B	45	C
21	A	46	D
22	C	47	C
23	C	48	C
24	A	49	A
25	D	50	B